

情報学習プリント 2 学年用 NO2

(2) 表ってなんだろう？

エクセルで表計算の学習をする準備として、表の特徴を学ぼう！

表は縦・横にいろいろなデータが並んでできています。

復習だよ。

縦は

横は

だったね。






普通、表には項目の名前を表す部分があります。

だいたい、1行目と1列目にあるよ！

	A	B	C	D	E	F
1		項目の名前				
2		●				
3	項目の名前				●	
4						
5				●		

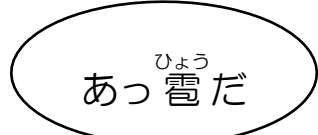
突然の復習！！

次のセルの名前は？

	 さる	 とり	 いぬ	 いのしし	 うま
年齢			●		
出身地					
身長					
体重					
得意技	●				

ここにはいぬ君のデータが入るんだね！






ここには得意技のデータが入るんだね！



この雪は空から降ってくる氷の塊のことだよ！



した ひょう み もんだい こた
下の表を見ながら問題に答えてみよう!

	A	B	C	D	E	F
1		さる 	とり 	いぬ 	いのしし 	うま 
2	ねんれい 年齢	さい 15歳	さい 23歳	さい 48歳	さい 8歳	さい 62歳
3	しゅっしんち 出身地	日光	名古屋	秋田	神奈川	北海道
4	しんちよう 身長	58 cm	27 cm	83 cm	127 cm	213 cm
5	たいじゅう 体重	18 k g	1.7 k g	8.6 k g	36 k g	465 k g
6	とくいわざ 得意技	ひっかき	コケッコ	かみつぎ	とっしん 突進	ダッシュ

もんだい ① さるの出身地はどこ? ()

もんだい ② とりの得意技は何? ()

もんだい ③ 体重が36キログラムなのはだれ? ()


もんだい ④ 年齢が62歳なのはだれ? ()

問題⑤ D 4セルには誰のどんなデータが入ってる? (の)



029 かぶとむし
カブトムシ

【むずかしい】



032 のこぎりくわがた
ノコギリクワガタ

【むずかしい】

